
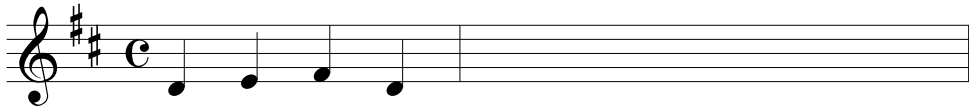
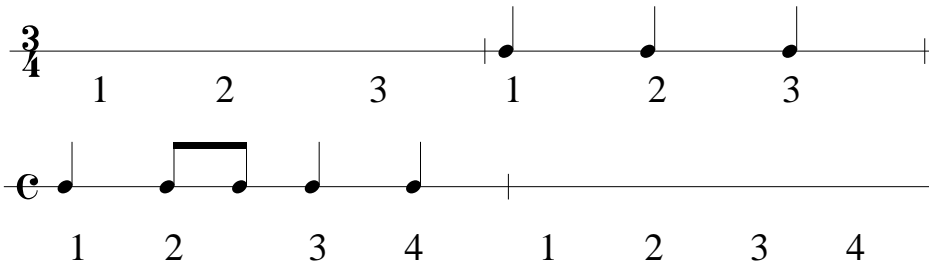


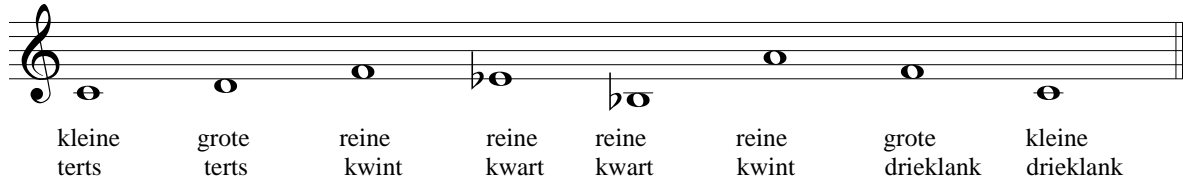
Luister goed en maak onderstaande melodietjes af :



Noteer de ritmes :



Noteer de intervallen :



Noteer de volgende toonladders in letters :

Grote tertstoonladder van D : -----

Grote tertstoonladder van Es :-----

Wat zijn de voortekens van e-klein : -----

Wals

M. Clementi (1752-1832)

Vivace

f

p

cresc.

f

G B D

Wat is de toonsoort van deze wals :

Wat voor drieklank staat er in de eerste maat van de tweede regel :

Welke drie notenwaarden kom je in de notenbalk met de G-sleutel tegen :

1 2..... 3.....

Wat betekent $\frac{3}{8}$: